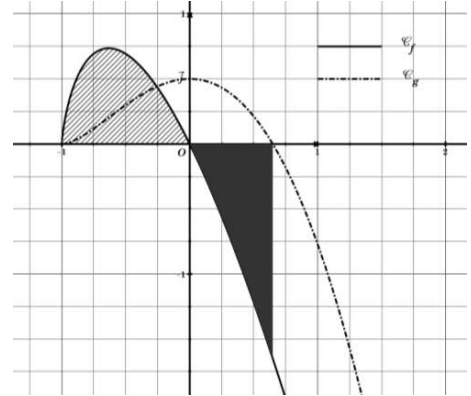


SÉRIE INTÉGRALES

Exercice 1 :

1) Calculer les intégrales : $I = \int_0^{\frac{\pi}{2}} \sin x (1 + \sin x)^2 dx$; $J = \int_0^{\frac{\pi}{2}} \cos^5(x) dx$; $K = \int_0^{\frac{\pi}{4}} \frac{\sin x}{\sqrt{\cos x}} dx$.

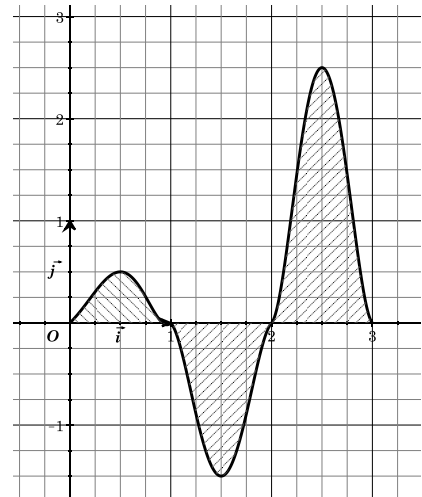
2) Dans la figure ci-contre on a représenté les courbes \mathcal{C}_f et \mathcal{C}_g où $g' = f$. Ces deux fonctions sont définies sur $[-1 ; +\infty[$. Répondre par vrai ou faux en justifiant.



- a) \mathcal{C}_g admet un point d'inflexion.
- b) Pour $x \geq -1$, $g(x) = \int_0^x f(t) dt$.
- c) La partie hachurée et celle pleine ont la même mesure d'aires.

3) Pour chaque question cocher la ou les bonnes réponses.

a) La figure ci-contre est la représentation graphique d'une fonction f définie et continue sur $[0 ; 3]$. L'aire \mathcal{A} , en unité d'aires, de la partie hachurée est telle que :



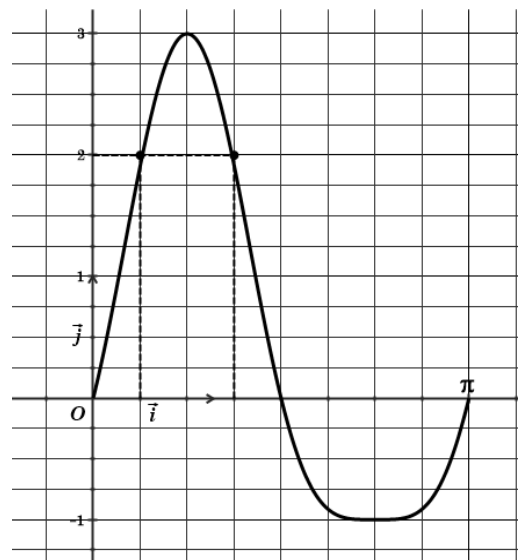
- $\mathcal{A} < 5$ $\mathcal{A} = 5$ $\mathcal{A} > 5$

b) Soit g une fonction continue sur \mathbb{R} telle que le point $I(1,0)$ est un centre de symétrie de \mathcal{C}_g . Alors $\int_0^2 g(x) dx$ est égale à :

- 0 $2 \int_0^1 g(x) dx$ $2 + \int_0^1 g(x) dx$

Exercice 2 :

La courbe ci-contre est la représentation graphique d'une fonction f définie et continue sur $[0 ; \pi]$. Répondre par vrai ou faux en justifiant la réponse.



- 1) $\int_0^{\pi} f(x) dx \geq 0$.
- 2) $\left| \int_0^{\pi} f(x) dx \right| = \int_0^{\pi} |f(x)| dx$.
- 3) $-\pi \leq \int_0^{\pi} f(x) dx \leq \frac{3\pi}{2}$.
- 4) La valeur moyenne de f est nulle.
- 5) Il existe un réel $a \in]0 ; \frac{\pi}{2}[$ tel que

$$\pi f(a) = \int_0^{\pi} f(x) dx.$$

Exercice 3 :



Soit f la fonction définie sur $I = \left[0; \frac{\pi}{2}\right[$ par $f(x) = \tan^2(x)$.

- 1) Etudier les variations de f et tracer sa courbe dans un repère orthonormé (O, \vec{i}, \vec{j}) .
- 2) Montrer que f réalise une bijection de I sur \mathbb{R}^+ . Tracer la courbe Γ de f^{-1} .
- 3) Soit $I = \int_0^{\frac{\pi}{4}} f(x) dx$ et $J = \int_0^1 f^{-1}(x) dx$. Calculer I et J .
- 4) Calculer le volume du solide obtenu par rotation de la partie de \mathcal{C} sur $\left[0; \frac{\pi}{4}\right]$ autour de l'axe des abscisses.

Exercice 4 :

Pour tout $n \in \mathbb{N}^*$, on pose $I_n = \int_0^1 \frac{x^n}{\sqrt{1+x^2}} dx$.

- 1) Calculer I_1 ; $I_1 + I_3$ et I_3 .
- 2) Montrer que la suite I est décroissante. En déduire qu'elle converge.
- 3) Montrer que pour tout $n \in \mathbb{N}^*$, $\frac{1}{(n+1)\sqrt{2}} \leq I_n \leq \frac{1}{n+1}$. En déduire la limite de I .
- 4) Montrer que pour tout $n \geq 3$; $I_n + I_{n-2} = \int_0^1 x^{n-2} \sqrt{1+x^2} dx$.
- 5) Montrer que pour $n \geq 3$, $nI_n + (n-1)I_{n-2} = \sqrt{2}$. En déduire la limite de $(nI_n)_{n \in \mathbb{N}^*}$.

Exercice 5 :

1) Soit f la fonction définie sur $\left[-\frac{\pi}{2}; \frac{\pi}{2}\right]$ par $f(x) = \sin x$.

a) Montrer que f admet une fonction réciproque g définie sur $[-1; 1]$.

b) Montrer que g est dérivable sur $] -1; 1[$ et que pour tout $x \in] -1; 1[$ on a : $g'(x) = \frac{1}{\sqrt{1-x^2}}$.

2) Pour $n \in \mathbb{N}^*$, on pose : $I_n = \int_0^{1-\frac{1}{n}} \frac{dx}{\sqrt{1-x^2}}$ et $S_n = \frac{1}{n} + \frac{1}{\sqrt{n^2-1}} + \frac{1}{\sqrt{n^2-2^2}} + \dots + \frac{1}{\sqrt{n^2-(n-1)^2}}$.

a) Montrer que pour tout $n \in \mathbb{N}^*$, $S_n = \frac{1}{n} \sum_{k=0}^{n-1} g'\left(\frac{k}{n}\right)$.

b) Soit $n \geq 2$ et $0 \leq k \leq n-2$. Montrer que : $\frac{1}{n} g'\left(\frac{k}{n}\right) \leq \int_{\frac{k}{n}}^{\frac{k+1}{n}} g'(x) dx \leq \frac{1}{n} g'\left(\frac{k+1}{n}\right)$.

c) En déduire que $S_n - \frac{1}{n} g'\left(1 - \frac{1}{n}\right) \leq \int_0^{1-\frac{1}{n}} g'(x) dx \leq S_n - \frac{1}{n}$.

d) Calculer la limite de la suite (S_n) .

Exercice 6 :

Pour $n \in \mathbb{N}$, on pose : $I_n = \int_0^{\frac{\pi}{4}} \frac{dx}{\cos^{2n+1}(x)}$ et $J_n = \int_0^{\frac{\pi}{4}} \frac{\sin^2(x)}{\cos^{2n+1}(x)} dx$.

1) Montrer que pour $n \in \mathbb{N}^*$, $I_n - I_{n-1} = J_n$. En déduire la monotonie de la suite (I_n) .

2) Montrer que pour tout $n \in \mathbb{N}$, $I_n = \frac{2^n}{\sqrt{2}} - (2n-1)J_n$.

3) Montrer que pour tout $n \in \mathbb{N}^*$, $2nI_n = \frac{2^n}{\sqrt{2}} + (2n-1)I_{n-1}$.

4) Montrer que pour tout $n \in \mathbb{N}^*$, $I_n \geq \frac{2^{n-1}}{\sqrt{2n}}$.



5) Montrer que pour tout $n \geq 4$, $2^n \geq n^2$. En déduire la limite de la suite (I_n) .

Exercice 7 :

Soit f la fonction définie sur \mathbb{R} par $f(x) = \frac{1}{\sqrt{x^4 + x^2 + 1}}$.

1) Etudier f et construire C_f la courbe représentative de f dans le repère orthonormé

2) On considère la fonction F définie par $F(x) = \int_x^{2x} f(t) dt$.

a) Montrer que F est dérivable sur \mathbb{R} et préciser sa fonction dérivée.

b) Montrer que F est impaire.

3) Soit x un réel strictement positif.

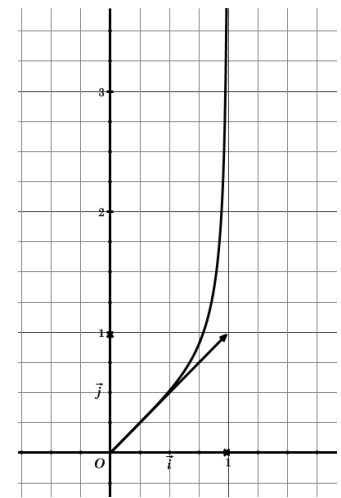
a) Montrer que pour tout $t \in [x, 2x]$ on a $0 \leq f(t) \leq f(x)$.

b) En déduire que pour tout $x > 0$ on a $0 \leq F(x) \leq \frac{x}{\sqrt{x^4 + x^2 + 1}}$.

d) Dresser le tableau de variations de F et tracer l'allure de la courbe représentative de F .

Exercice 8 :

Soit la fonction f définie sur $[0, 1[$ par $f(x) = \frac{x}{\sqrt{1-x^4}}$. On a représenté ci-contre la courbe C_f représentative de f dans un repère orthonormé (O, \vec{i}, \vec{j}) .



1) Soit F la fonction définie sur $\left[0, \frac{\pi}{2}\right[$ par : $F(x) = \int_0^{\sqrt{\sin x}} f(t) dt$.

a) Montrer que F est continue sur $\left[0, \frac{\pi}{2}\right[$, dérivable sur $\left]0, \frac{\pi}{2}\right[$ et calculer $F'(x)$.

b) En déduire que, pour tout $x \in \left[0, \frac{\pi}{2}\right[$ on a $F(x) = \frac{x}{2}$.

c) Trouver alors l'aire A de la partie du plan limitée par C_f et les droites $y = x$, $x = 0$ et $x = \frac{\sqrt{2}}{2}$.

2) Soit $\lambda \in \left[\frac{\pi}{6}, \frac{\pi}{2}\right[$, on pose $I(\lambda) = \int_{\frac{\sqrt{2}}{2}}^{\sqrt{\sin \lambda}} \frac{\sqrt{1-t^4}}{t^3} dt$.

a) A l'aide d'une intégration par parties, calculer $I(\lambda)$.

b) Déterminer $\lim_{\lambda \rightarrow \frac{\pi}{2}^-} I(\lambda)$.

Exercice 9 :

Soit f une fonction définie continue et strictement positive sur \mathbb{R} . On note $l = \lim_{x \rightarrow +\infty} f(x)$. (l finie ou

infinie) Pour tout réel a , on pose $F_a(x) = \int_a^x f(t) dt$, $x \in \mathbb{R}$.

1) Montrer que F_a est strictement croissante sur \mathbb{R} .

2) Dans cette question $f(t) = \frac{1}{\pi(1+t^2)}$ et soit $g(x) = \tan x$, $x \in \left]-\frac{\pi}{2}; \frac{\pi}{2}\right[$.

a) Montrer que g admet une fonction réciproque g^{-1} définie et dérivable sur \mathbb{R} et calculer $(g^{-1})'(x)$ pour tout réel x .

b) Montrer que pour tous réels a et x , $F_a(x) < 1$.

3) Dans la suite f est quelconque de façon l est non nulle. On admet que $\lim_{x \rightarrow +\infty} F_a(x) = +\infty$.

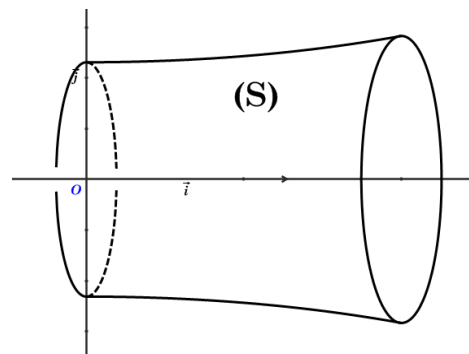
a) Montrer que l'équation $F_a(x) = 1$ admet une solution unique notée $\varphi(a)$.

- b) Soit G_0 la réciproque de F_0 . Montrer que $\varphi(a) = G_0(1 + F_0(a))$.
 c) En déduire que φ est strictement croissante sur \mathbb{R} . (Sans calcul de dérivée).
 d) On suppose que que f ne s'annule pas. Montrer que φ est dérivable sur \mathbb{R} et que
- $$\varphi'(a) = \frac{f(a)}{f(\varphi(a))}.$$

Exercice 10 :

Dans la figure ci-contre, le solide (S) est obtenu en faisant tourner la courbe de la fonction f définie sur $\left[0; \frac{\pi}{2}\right]$ par :

$f(x) = \frac{1}{\sqrt{2+\cos x}}$ autour de l'axe des abscisses. On note \mathcal{V} le volume de (S) en unités de volumes.



1) Pour $x \in]-\pi; \pi[$ on pose $F(x) = \int_0^x \frac{dt}{2+\cos t}$ et

$$G(x) = \int_0^{\tan\left(\frac{x}{2}\right)} \frac{2}{3+t^2} dt.$$

a) Vérifier que $\mathcal{V} = \pi F\left(\frac{\pi}{2}\right)$.

b) Montrer que G est dérivable sur $]-\pi; \pi[$ et calculer $G'(x)$.

c) En déduire que pour tout $x \in]-\pi; \pi[$, $G(x) = F(x)$.

2) Soit $H(x) = \int_0^x \frac{dt}{1+t^2}$; $x \in \mathbb{R}$.

a) Montrer que pour tout $x \in \left]-\frac{\pi}{2}; \frac{\pi}{2}\right[$, $H(\tan x) = x$.

b) Montrer que pour tout $x \in]-\pi; \pi[$, $G(x) = \frac{2}{\sqrt{3}} H\left(\frac{1}{\sqrt{3}} \tan\left(\frac{x}{2}\right)\right)$.

c) Calculer \mathcal{V} .

Exercice 11 :

Soit f la fonction définie sur $[0; +\infty[$ par $f(x) = \frac{2\sqrt{x}}{1+x}$.

1) Etudier f et tracer sa courbe \mathcal{C} dans un repère orthonormé (O, \vec{i}, \vec{j}) .

2) Soit F la fonction définie sur $\left[0; \frac{\pi}{2}\right]$ par $F(x) = \int_0^{\tan^2(x)} f(t) dt$.

a) Montrer que F est dérivable et déterminer sa dérivée.

b) Déterminer $F(x)$ en fonction de x .

c) Calculer l'aire \mathcal{A} de la partie du plan délimitée par \mathcal{C} , l'axe des abscisses et les droites d'équations $x = 0$ et $x = 1$.

3) Pour $n \in \mathbb{N}^*$, on pose $u_n = \frac{2}{\sqrt{n}} \sum_{k=0}^{n-1} \frac{\sqrt{k}}{n+k}$.

a) Vérifier que pour tout $n \in \mathbb{N}^*$, $u_n = \frac{1}{n} \left(f(0) + f\left(\frac{1}{n}\right) + \dots + f\left(\frac{n-1}{n}\right) \right)$

b) Montrer que pour $k \in \{0, 1, \dots, n-1\}$: $\frac{1}{n} f\left(\frac{k}{n}\right) \leq \int_{\frac{k}{n}}^{\frac{k+1}{n}} f(x) dx \leq \frac{1}{n} f\left(\frac{k+1}{n}\right)$.

c) En déduire que $\mathcal{A} - \frac{1}{n} \leq u_n \leq \mathcal{A}$. Calculer la limite de u .

Exercice 12 :

Soit f la fonction définie sur $\left[0; \frac{\pi}{2}\right]$ par $f(x) = \int_0^{\tan x} \frac{t}{1+t^4} dt$.

1) Montrer que f est dérivable sur $\left]0; \frac{\pi}{2}\right[$ et calculer $f'(x)$.

2) Montrer que pour $x \in \left]0; \frac{\pi}{2}\right[$, $\frac{\tan x}{2x(1+\tan^2 x)} \leq \frac{f(x)}{x} \leq \frac{\tan x}{2x}$. En déduire que f est dérivable à droite en 0.

3) Expliciter $f(x)$. En déduire la valeur de $I = \int_0^1 \frac{t}{1+t^4} dt$.

4) Montrer que pour tout $n \in \mathbb{N}$ et pour tout réel t , $\frac{t}{1+t^4} = \sum_{k=0}^n (-1)^k t^{4k+1} + (-1)^{n+1} \frac{t^{4n+5}}{1+t^4}$.

5) Pour $n \in \mathbb{N}$, on pose $u_n = \sum_{k=0}^n \frac{(-1)^k}{4k+2}$ et $v_n = (-1)^{n+1} \int_0^1 \frac{t^{4n+5}}{1+t^4} dt$.

a) Montrer que $|v_n| \leq \frac{1}{4n+6}$.

b) En déduire la limite de u .

Exercice 13 :

Soit f la fonction définie sur $\left[0; \frac{\pi}{2}\right]$ par $f(x) = \frac{\cos x}{1+\sin^2 x}$. On pose $I_0 = \int_0^{\frac{\pi}{2}} f(x) dx$ et pour tout entier naturel non nul n , $I_n = \int_0^{\frac{\pi}{2}} f(x) \sin^n(x) dx$.

Partie A :

1) Soit g la fonction définie sur $I = \left[0; \frac{\pi}{2}\right]$ par : $g(x) = \tan x$.

a) Montrer que g réalise une bijection de I sur intervalle J que l'on précisera.

b) Montrer que pour tout $x \in J$, $g^{-1}(x) = \int_0^x \frac{1}{1+t^2} dt$.

2) Soit $F(x) = \int_0^{\sin x} \frac{1}{1+t^2} dt$ où $x \in \left[0; \frac{\pi}{2}\right]$.

a) Montrer que pour tout $x \in \left[0; \frac{\pi}{2}\right]$, $F(x) = \int_0^x f(t) dt$.

b) En déduire alors la valeur de I_0 .

3) Montrer que la suite $(I_n)_{n \in \mathbb{N}}$ est décroissante et convergente.

4) Montrer que pour tout n , $I_n + I_{n+2} = \frac{1}{n+1}$. En déduire que $I_n \geq \frac{1}{2n+2}$.

5) Montrer que pour $n \geq 2$, $I_n \leq \frac{1}{2n-2}$. En déduire la limite de (I_n) et de (nI_n) .

Partie B :

Pour tout $n \geq 2$, on pose : $\varphi(t) = g^{-1}(t^n)$ où $t \in [0,1]$; $J_n = \int_0^1 \frac{t^{n-1}}{1+t^{2n}} dt$ et $U_n = \int_0^1 \frac{t^{3n-1}}{(1+t^{2n})^2} dt$.

1) Montrer que φ est dérivable sur $[0,1]$ et calculer sa dérivée.

2) Calculer J_n en fonction de n .

3) Montrer que pour tout $n \geq 2$, $U_n = \frac{-1}{4n} + \frac{1}{2} J_n$.

4) En déduire la valeur de $A = \int_0^1 \frac{t+2t^5}{(1+t^4)^2} dt$.

Exercice 14 :

f et g deux fonctions continues sur un intervalle $[a ; b]$ où $a < b$ et g strictement positive. Montrer qu'il existe un réel $c \in [a ; b]$ tel que : $\int_a^b f(x)g(x)dx = f(c) \int_a^b g(x)dx$.

Exercice 15 :

On considère la suite (I_n) définie sur \mathbb{N} par : $I_0 = \frac{\pi}{2}$ et pour $n \in \mathbb{N}^*$, $I_n = \int_0^{\frac{\pi}{2}} (\cos t)^n dt$.

- 1) Calculer I_1 .
- 2) Montrer que la suite (I_n) est monotone et qu'elle converge.
- 3) Montrer que pour tout $n \in \mathbb{N}$, $I_{n+2} = \frac{n+1}{n+2} I_n$. En déduire I_2 et I_3 .
- 4) Montrer que pour tout $n \in \mathbb{N}$, $1 \leq \frac{I_{n+1}}{I_{n+2}} \leq \frac{n+2}{n+1}$. En déduire la limite de $\frac{I_n}{I_{n+1}}$.
- 5) Montrer que pour tout $n \in \mathbb{N}$, $I_n I_{n+1} = \frac{\pi}{2(n+1)}$. En déduire la limite de la suite (I_n) .
- 6) Montrer que pour tout $n \in \mathbb{N}$, $I_{2n} = \frac{(2n)! \pi}{2^{2n+1} (n!)^2} = \frac{C_{2n}^n \pi}{2^{2n+1}}$ et que $I_{2n+1} = \frac{2^{2n} (n!)^2}{(2n+1)!}$.

