


Lycée pilote de Tunis 	Sujet de révision 4- 2020	<i>Terminales Maths</i>
Mr Ben Regaya. A	+Éléments de Corrections	www.ben-regaya.net

Exercice 1

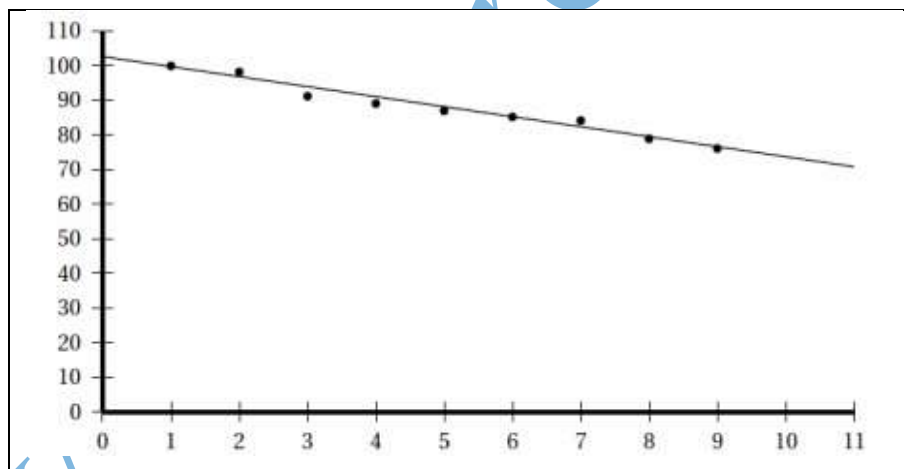
La Caisse Nationale de l'Assurance Maladie (CNAM) publie, chaque année, des statistiques sur les accidents du travail en France. Celles-ci permettent d'obtenir divers indicateurs, notamment l'indice de fréquence (nombre moyen d'accidents du travail avec arrêt pour 1000 salariés).

Le tableau ci-dessous donne l'évolution de l'indice de fréquence pour le secteur du BTP (Bâtiment et Travaux Publics) en France, au cours des années 2001 à 2009 :

Année	2001	2002	2003	2004	2005	2006	2007	2008	2009
Rang de l'année : x_i	1	2	3	4	5	6	7	8	9
Indice de fréquence: y_i	100,3	98,9	91,6	89,5	87,6	85,4	84,0	79,9	76,0

1. Premier ajustement

Grâce à un logiciel, un élève a obtenu le nuage de points représentant la série statistique (x_i, y_i) et, par la méthode des moindres carrés, la droite d'ajustement de y en x dont une équation est $y = -2,89x + 102,59$ (les coefficients sont arrondis à 0,01).



- En supposant que cet ajustement affine est valable jusqu'en 2012, déterminer une estimation de l'indice de fréquence en l'année 2012.
- Quel serait le pourcentage d'évolution entre 2007 et 2012 de l'indice de fréquence selon ce modèle ? On arrondira le résultat à 10^{-2} .

2. Deuxième ajustement

Un autre élève envisage un ajustement exponentiel de la série statistique (x_i, y_i) . On pose $z_i = \ln y_i$.

- Recopier et compléter le tableau ci-dessous (les valeurs de z_i seront arrondies à 10^{-3}).

x_i	1	2	3	4	5	6	7	8	9
$z_i = \ln y_i$	4,608	4,594	4,517						

- b) À l'aide de la calculatrice, déterminer, par la méthode des moindres carrés, une équation de la droite d'ajustement de z en x sous la forme $z = ax + b$, les coefficients a et b étant arrondis à 10^{-4} .

En déduire une expression de y en fonction de x sous la forme $y = ke^{-0,0328x}$, k étant une constante arrondie à 10^{-1} près.

3. La stratégie européenne de santé au travail a fixé comme objectif une réduction de 25% de l'indice de fréquence entre 2007 et 2012. Peut-on prévoir d'atteindre cet objectif selon les deux ajustements précédents, que l'on suppose valables jusqu'en 2012 ?

Exercice 2

Partie I

Dans cette partie, n est un entier naturel supérieur ou égal à 3

On considère la fonction g_n définie sur $]0, +\infty[$ par $g_n(x) = nx + 2\ln x$.

- Dresser le tableau de variations de g_n .
- Montrer que pour tout $x \in]0, +\infty[$, on a $\sqrt{x} > \ln x$.
- a) Montrer que l'équation $g_n(x) = 0$ admet dans $]0, +\infty[$ une unique solution notée α_n , puis montrer que $\frac{1}{n} < \alpha_n < \frac{1}{\sqrt{n}}$.
- b) En déduire la limite de la suite (α_n) .

Partie II

A- Soit f la fonction définie sur $[0, +\infty[$ par $f(x) = \sqrt[3]{x} e^{-x}$.

On note (C) sa représentation graphique dans un repère orthonormé (O, \vec{i}, \vec{j}) .

On prend 3 cm pour unité

- Etudier la dérivabilité de f à droite de zéro puis donner une interprétation géométrique de ce résultat.
- Calculer $\lim_{x \rightarrow +\infty} f(x)$ puis donner une interprétation géométrique de ce résultat.
- a) Montrer que pour tout réel x appartenant à $]0, +\infty[$, $f'(x) = \left(\frac{1-3x}{3x}\right) f(x)$.
- b) Dresser le tableau de variations de f .
- Tracer (C). On prendra $f\left(\frac{1}{3}\right) \approx 0,5$.

B- On pose $I = \left[\frac{1}{3}, 1\right]$.

- a) Montrer que $f(I) \subset I$.
- b) Montrer que $\forall x \in I, |f'(x)| \leq \frac{2}{3}$.
- c) Montrer que $[x = \alpha_3 \Leftrightarrow (x > 0 \text{ et } f(x) = x)]$, où α_3 est la solution de l'équation (Cf. Partie I).
- Soit la suite (u_n) définie par $u_0 = \frac{1}{3}$ et pour entier naturel n , $u_{n+1} = f(u_n)$.
 - Montrer que pour entier naturel n , $u_n \in I$.
 - Montrer que pour entier naturel n , $|u_{n+1} - \alpha_3| \leq \frac{2}{3} |u_n - \alpha_3|$.



c) En déduire que pour tout entier naturel n , $|u_n - \alpha_3| \leq \left(\frac{2}{3}\right)^{n+1}$.

d) Montrer que la suite est convergente et donner sa limite.

Partie III

Soit F la fonction définie sur $[0, +\infty[$ par $F(x) = \int_x^{8x} f(t) dt$.

1. a) Montrer que F est dérivable sur $[0, +\infty[$.

b) Donner l'expression de $F'(x)$ pour tout x appartenant à $[0, +\infty[$ et en déduire le sens de variations de F .

2. a) Montrer que pour tout x appartenant à $[0, +\infty[$, on a $0 \leq F(x) \leq 2f(x)(1 - e^{-7x})$.

b) En déduire la valeur de $\lim_{x \rightarrow +\infty} F(x)$.

c) Dresser le tableau de variations de F .

Exercice 3

Soit f la fonction définie sur l'intervalle $[0, +\infty[$ par $f(0) = 0$ et si $x > 0$, $f(x) = \left(\frac{x+1}{x}\right) e^{-\frac{1}{x}}$. (C) est la courbe de f dans un repère orthonormé du plan.

1. a) Montrer que f est continue à droite en 0.

b) Etudier la dérivabilité de f à droite en 0. Donner l'équation de la demi-tangente à (C) au point O.

2. a) Montrer que f est dérivable sur $]0, +\infty[$ et que $f'(x) = \frac{1}{x^3} e^{-\frac{1}{x}}$.

b) Déduire les variations de f sur $[0, +\infty[$.

c) Déduire que f admet une fonction réciproque g définie sur $[0, 1[$.

d) Tracer les courbes (C) et (C') de g .

3. Soit x un réel de $]0, 1[$.

a) Calculer en fonction de x , le réel $G(x) = \int_x^1 t f'(t) dt$.

b) On considère la fonction F définie sur $]0, 1[$ par : $F(x) = \int_x^1 f(t) dt$.

Exprimer $F(x)$ en fonction de $G(x)$. En déduire que $F(x) = \frac{1}{e} - x e^{-\frac{1}{x}}$.

4. Soit α un réel de $]0, 1[$ et $A(\alpha)$ l'aire du domaine plan limité par (C), l'axe des abscisses et les droites d'équations respectives $x = \alpha$ et $x = 1$.

a) Calculer $A(\alpha)$ et $\lim_{\alpha \rightarrow 0^+} A(\alpha)$.

b) En déduire l'aire du domaine plan limité par (C), (C') et les droites d'équations respectives $x = 1$ et $y = 1$.

Exercice 4 « Répondre par vrai-faux ». Justifier.

1. $\lim_{n \rightarrow +\infty} \left(1 + \frac{2}{n}\right)^n = 1$

2. Si $u(x) = 8^x$, alors sa dérivée est $u'(x) = 8^{x-1}$.

3. L'ensemble des couples d'entiers (x, y) solutions de l'équation $12x - 5y = 3$ est l'ensemble des couples $(4 + 10k, 9 + 24k)$ où $k \in \mathbb{Z}$.



4. On considère, dans le plan complexe rapporté à un repère orthonormé direct (O, \vec{u}, \vec{v}) le point A d'affixe $2-i$ et B l'image de A par la rotation de centre O et d'angle $\frac{\pi}{2}$. On note I le milieu de $[AB]$. La similitude directe S de centre A qui transforme I en O a pour écriture complexe $z' = (1+i)z - 1 - 2i$.
5. Pour tout réels a et b strictement positifs $\int_1^{ab} \frac{1}{t} dt = \int_1^a \frac{1}{t} dt + \int_1^b \frac{1}{t} dt$.

Exercice 5

n est un entier naturel non nul. Soit f_n la fonction définie sur $[1, +\infty[$ par : $f_n(x) = \frac{\sqrt{\ln x}}{x^n}$. On désigne par (C_n) la courbe représentative de f_n dans un repère orthonormé (O, \vec{i}, \vec{j}) .

- Etudier la dérivabilité de f_n à droite en 1. Interpréter graphiquement le résultat obtenu.
 - Dresser le tableau de variation de f_n .
 - Etudier la position relative des courbes (C_n) et (C_{n+1}) puis tracer (C_1) et (C_2) .
- Soit a un réel de $]1, +\infty[$. Calculer une mesure de l'aire $I(a)$ de la partie du plan limitée par la courbe (C_1) , la droite des abscisses et les droites d'équations respectives $x = 1$ et $x = a$.

3. On pose $t_n = \sum_{k=0}^n \frac{\sqrt{\ln\left(1 + \frac{k}{2n}\right)}}{k + 2n}$.

a) Montrer que pour tout entier $k \in \{0, 1, 2, \dots, n-1\}$, on a :

$$\frac{1}{2n} f_1\left(1 + \frac{k}{2n}\right) \leq \int_{1 + \frac{k}{2n}}^{1 + \frac{k+1}{2n}} f_1(x) dx \leq \frac{1}{2n} f_1\left(1 + \frac{k+1}{2n}\right)$$

b) En déduire que $t_n - \frac{1}{2n} f_1\left(\frac{3}{2}\right) \leq I\left(\frac{3}{2}\right) \leq t_n$. Calculer alors $\lim_{n \rightarrow +\infty} t_n$.

Exercice 6

On considère la suite (u_n) définie pour tout naturel non nul n par $u_n = \sum_{k=1}^{2n} \frac{1}{n+k} = \frac{1}{n+1} + \frac{1}{n+2} + \dots + \frac{1}{3n}$.

- Montrer que la suite (u_n) est majorée par 2 et elle est convergente.
- Montrer que pour tout réel $x > 0$, $\frac{1}{x+1} \leq \ln\left(\frac{x+1}{x}\right) \leq \frac{1}{x}$.
- Déduire de ce qui précède que, pour tout naturel non nul n , $u_n \leq \ln 3 \leq u_n + \frac{2}{3n}$.
- Déterminer alors la limite de la suite (u_n) .



Exercice 7

Dans le graphique ci-dessous on a représenté dans le plan muni d'un repère orthonormé $(O, \overrightarrow{OI}, \overrightarrow{OJ})$ en gras la courbe (C) d'une fonction f continue sur \mathbb{R} . On sait que la restriction de la courbe (C) à l'intervalle $[0, 1]$ est le demi-cercle de diamètre $[OI]$ et que la demi-tangente (T) à (C) a droite en 1 à pour équation $y = x - 1$.

En pointillé on a représenté la courbe de la fonction g définie par : $g(x) = \begin{cases} x^2, & x \geq 0 \\ -x^2, & x < 0 \end{cases}$

1. Préciser le signe de $f(x)$ pour tout $x \in \mathbb{R}$.
2. Pour tout $x \in]0, +\infty[$, on pose $F(x) = \int_0^{\ln x} f(t) dt$

a) Calculer $F(1)$.

b) Donner une interprétation graphique de $F(e)$ puis

prouver que $F(e) = \frac{\pi}{8}$.

3. a) Montrer que F est dérivable sur $]0, +\infty[$ et que pour

tout $x > 0$, $F'(x) = \frac{f(\ln x)}{x}$.

b) Par une simple lecture graphique prouver que pour tout $t \geq 1$

on a : $t - 1 \leq f(t) \leq t^2$.

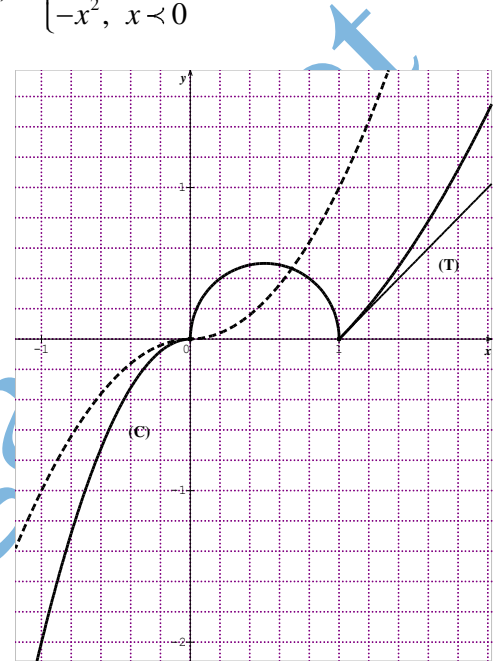
En déduire que pour tout $x \geq e$ on a :

$$\frac{1}{2}(\ln x)^2 - \ln x \leq \int_1^{\ln x} f(t) dt \leq \frac{1}{3}(\ln x)^3$$

c) Déterminer alors $\lim_{x \rightarrow +\infty} F(x)$ et $\lim_{x \rightarrow +\infty} \frac{F(x)}{x}$.

a) Montrer que pour tout $x \in]0, 1]$, on a $F(x) \geq -\frac{1}{3}(\ln x)^3$. En déduire $\lim_{x \rightarrow 0^+} F(x)$.

b) Dresser le tableau de variation de F . Donner l'allure de la courbe de F dans un nouveau repère.



Exercice 8

1. Soit dans $\mathbb{Z} \times \mathbb{Z}$ l'équation $(E) : 97x - 299y = 81$.

a) Montrer que les solutions de (E) sont les couples (x, y) tels que $x = 299k + 7$ et $y = 97k + 2$ avec $k \in \mathbb{Z}$.

b) soit (x, y) une solution de (E) . Quelles sont les valeurs possibles de $x \wedge y$?

c) Montrer que $(299k + 7) \wedge (97k + 2) = (k - 10) \wedge 81$. En déduire les couples (x, y) solutions de (E) tels que $x \wedge y = 81$.



2. a et c deux chiffres non nuls. On suppose que le nombre à quatre chiffres $X = a4c4$ et $Y = c4a4$ sont tels que $Y = Xq + 2$ où $q \in \mathbb{N}$.
- Montrer que $202q - 201 \equiv 0 \pmod{5}$.
 - En déduire que $q = 3$.
 - Montrer que le couple (c, a) est solution de (E) .
 - Déterminer alors X et Y .

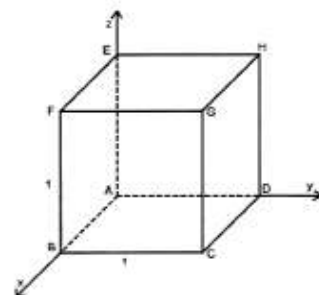
Exercice 9


Soit $ABCDEFGH$ un cube d'arête 1. On désigne par P le centre de gravité du triangle HGF et Q le centre de gravité du triangle FBG et on muni l'espace du repère orthonormé direct $(A, \overrightarrow{AB}, \overrightarrow{AD}, \overrightarrow{AE})$

- Donner une représentation paramétrique de la droite (BH) .
 - Montrer qu'une équation cartésienne du plan (ACF) est $-x + y + z = 0$
 - Déterminer les points W de la droite (BH) tel que le volume de tétraèdre $ACFW$ est égale à $\frac{11}{6}$.
- Soit K le milieu de $[FG]$ et h l'homothétie de centre K et de rapport $\frac{1}{3}$.
 - Montrer que $h(H) = P$ et $h(B) = Q$
 - Donner l'expression analytique de h .
- Soit le plan $(R): -x + y + z - \frac{1}{3} = 0$
 - Montrer que (R) est l'image du plan (ACF) par h .
 - Vérifier que (BH) est perpendiculaire à (ACF) en un point N que l'on déterminera les coordonnées.

En déduire que (R) est perpendiculaire à (PQ) en un point N' que l'on déterminera les coordonnées.

 - Donner une équation cartésienne de la sphère S tangente aux plans (R) et (ACF) et dont le centre appartient à la droite (NN') .



 Lycée pilote de Tunis	Sujet de révision 4- 2020	Terminales Maths
Mr Ben Regaya. A	Eléments de Corrections	www.ben-regaya.net

Exercice 1

1. Premier ajustement

a) En supposant que cet ajustement affine est valable jusqu'en 2012, une estimation de l'indice de fréquence en l'année 2012 est : $y_{12} = -2,89 \times 12 + 102,59 = 67,91$

b) Pourcentage d'évolution entre 2007 et 2012 de l'indice de fréquence selon ce modèle :

$$t = \frac{67,91 - 84}{84} \times 100 \approx -19,15 \%$$

2. Deuxième ajustement

Un autre élève envisage un ajustement exponentiel de la série statistique

On pose $z_i = \ln y_i$.

a)

x_i	1	2	3	4	5	6	7	8	9
$z_i = \ln y_i$	4,608	4,594	4,517	4,494	4,473	4,447	4,431	4,381	4,331

b) À l'aide de la calculatrice, par la méthode des moindres carrés, une équation de la droite d'ajustement de z en x est : $z = -0,0328x + 4,6392$

c) $z = \ln y \Leftrightarrow y = e^z \Leftrightarrow y = 103,5 \times e^{-0,0328x}$

3. La stratégie européenne de santé au travail a fixé comme objectif une réduction de 25% de l'indice de fréquence entre 2007 et 2012.

Nous venons de voir qu'en utilisant l'ajustement affine, il y avait une réduction de 19,15% entre 2007 et 2012. L'objectif ne serait donc pas atteint.

En utilisant l'ajustement exponentiel, l'indice de fréquence en 2012 est : $y'_{12} = 103,5 \times e^{-0,0328 \times 12} = 69,8236$

Le pourcentage d'évolution entre 2007 et 2012 de l'indice de fréquence selon ce dernier modèle est :

$$t' = \frac{69,8236 - 84}{84} \times 100 \approx -16,88 \%. \text{ L'objectif n'est pas atteint.}$$

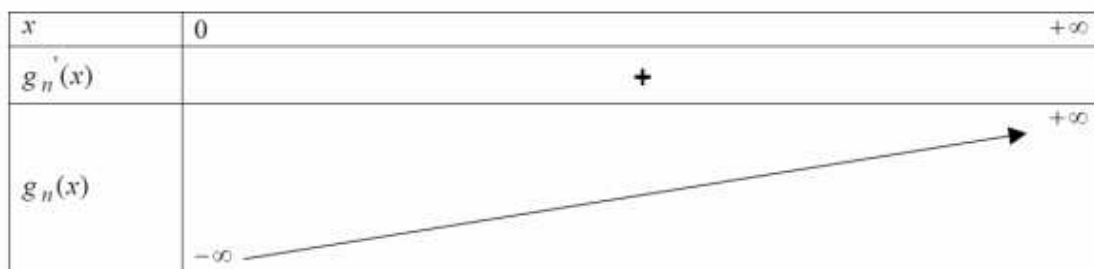
Exercice 2

Partie I

1. g_n est dérivable sur $]0, +\infty[$ et $g'_n(x) = n + \frac{2}{x} > 0$, de plus $\lim_{x \rightarrow 0^+} g_n(x) = -\infty$ et $\lim_{x \rightarrow +\infty} g_n(x) = +\infty$

Le tableau de variations de g_n est ainsi :

x	0	$+\infty$
$g'_n(x)$		+
$g_n(x)$	$-\infty$	$+\infty$



2. On pose $d(x) = \sqrt{x} - \ln x$ et on va démontrer que $d(x) > 0$ pour tout $x \in]0, +\infty[$.

d est dérivable sur $]0, +\infty[$ somme de fonctions dérivables sur cet intervalle et $d'(x) = \frac{1}{2\sqrt{x}} - \frac{1}{x} = \frac{\sqrt{x} - 2}{2x}$.

d admet un minimum en $x = 4$, donc pour tout $x \in]0, +\infty[$, on a

$$d(x) \geq d(4) = 2(1 - \ln 2) = 2(\ln e - \ln 2) = 2\ln\left(\frac{e}{2}\right) > 0 \text{ car } \frac{e}{2} > 1, \text{ donc } \sqrt{x} > \ln x \text{ pour tout } x \in]0, +\infty[.$$

3. a) g_n est dérivable sur $]0, +\infty[$ donc continue et elle est strictement croissante sur cet intervalle donc elle réalise une bijection de $]0, +\infty[$ sur $g_n(]0, +\infty[) = \mathbb{R}$.

$0 \in g_n(]0, +\infty[)$ donc l'équation $g_n(x) = 0$ admet dans $]0, +\infty[$ une unique solution notée α_n .

De plus $g_n\left(\frac{1}{n}\right) = 1 + 2\ln\left(\frac{1}{n}\right) = 1 - 2\ln(n) = \ln\left(\frac{e}{n^2}\right)$, donc $\forall n \geq 3$ $g_n\left(\frac{1}{n}\right) < 0$.

Par ailleurs $g_n\left(\frac{1}{\sqrt{n}}\right) = \sqrt{n} + 2\ln\left(\frac{1}{\sqrt{n}}\right) = \sqrt{n} - \ln(n) > 0$ d'après la question 2.

On en déduit que $g_n\left(\frac{1}{n}\right) < 0 < g_n\left(\frac{1}{\sqrt{n}}\right)$, c'est-à-dire $g_n\left(\frac{1}{n}\right) < g_n(\alpha_n) < g_n\left(\frac{1}{\sqrt{n}}\right)$ et comme g_n est strictement croissante sur $]0, +\infty[$, alors $\frac{1}{n} < \alpha_n < \frac{1}{\sqrt{n}}$.

b) $\lim_{n \rightarrow +\infty} \frac{1}{n} = \lim_{n \rightarrow +\infty} \frac{1}{\sqrt{n}} = 0$ par le théorème de comparaison $\lim_{n \rightarrow +\infty} \alpha_n = 0$.

Partie II

A-

1. Pour $x > 0$, $\frac{f(x) - f(0)}{x} = \frac{1}{x\sqrt[3]{x}e^{-x}} = \frac{1}{\sqrt[3]{x^2}e^{-x}}$ et donc $\lim_{x \rightarrow 0^+} \frac{f(x) - f(0)}{x} = +\infty$, cela implique que f n'est

pas dérivable à droite de zéro et que (C) admet une demi tangente verticale d'équation $\begin{cases} x = 0 \\ y \geq 0 \end{cases}$.

2. $\lim_{x \rightarrow +\infty} f(x) = \lim_{x \rightarrow +\infty} \frac{\sqrt[3]{x}}{e^x} = \lim_{x \rightarrow +\infty} \frac{1}{e^x} = 0$ en effet $\lim_{x \rightarrow +\infty} \frac{e^x}{\sqrt[3]{x}} = +\infty$ résultat de cours. donc (C) admet la droite

d'équation $y = 0$ comme asymptote.

3. a) f est dérivable sur $]0, +\infty[$ et $f'(x) = \frac{1}{3}x^{-\frac{2}{3}}e^{-x} - x^{\frac{1}{3}}e^{-x} = \left(\frac{1}{3x} - 1\right)x^{\frac{1}{3}}e^{-x} = \left(\frac{1-3x}{3x}\right)f(x)$.

Pour tout x appartenant à $]0, +\infty[$, $f(x) = \sqrt[3]{x}e^{-x}$ est positive, le signe de f' ne dépend que du signe de

$$\frac{1-3x}{3x}.$$

b)

x	0	$\frac{1}{3}$	$+\infty$
$f'(x)$		+	-
$f(x)$	0	0,5	0

4.





B-

1. a) f est strictement décroissante et elle est continue donc $f(I) = \left[f(1), f\left(\frac{1}{3}\right) \right]$.

De plus $f(1) = \frac{1}{e} > \frac{1}{3}$ et $f(1) \in I$.

Et $f\left(\frac{1}{3}\right) = \left(\frac{1}{3}\right)^{\frac{1}{3}} e^{-\left(\frac{1}{3}\right)} = \frac{1}{\sqrt[3]{3}} \times \frac{1}{e^{\frac{1}{3}}} = \frac{1}{(3e)^{\frac{1}{3}}} = \frac{1}{\sqrt[3]{3e}}$, or $3e > 1 \Rightarrow \sqrt[3]{3e} > \sqrt[3]{1} = 1 \Rightarrow \frac{1}{\sqrt[3]{3e}} < 1 \Rightarrow f\left(\frac{1}{3}\right) < 1$

et $f\left(\frac{1}{3}\right) \in I$.

Donc $\frac{1}{3} < f(1) < f\left(\frac{1}{3}\right) < 1$ et au final $f(I) \subset I$.

b) On a : $f'(x) = \left(\frac{1-3x}{3x}\right) f(x)$, soit $|f'(x)| = \left|\left(\frac{1-3x}{3x}\right) f(x)\right|$, d'après le tableau de variation de f , on sait

que $f(x) \leq f\left(\frac{1}{3}\right) \approx 0,5 < 1 \forall x \in I$.

D'où $|f'(x)| \leq \left|\left(\frac{1-3x}{3x}\right)\right|$, or $\forall x \in I, \left|\frac{1-3x}{3x}\right| = \frac{3x-1}{3x} = 1 - \frac{1}{3x}$.

$\frac{1}{3} \leq x \leq 1 \Leftrightarrow 1 \leq 3x \leq 3 \Leftrightarrow \frac{1}{3} \leq \frac{1}{3x} \leq 1 \Rightarrow 1 - \frac{1}{3x} \leq 1 - \frac{1}{3} = \frac{2}{3}$.

Au final, on a bien $\forall x \in I, |f'(x)| \leq \frac{2}{3}$.

c) On a $f(x) = x$ et $x > 0 \Leftrightarrow \sqrt[3]{x} e^{-x} = x$ et $x > 0 \Leftrightarrow e^{-x} = x^3$ et $x > 0 \Leftrightarrow -x = \frac{2}{3} \ln x$ et $x > 0$

$\Leftrightarrow 3x + 2 \ln x = 0$ et $x > 0 \Leftrightarrow g_3(x) = 0$ et $x > 0 \Leftrightarrow x = \alpha_3$.

2. a) Pour cela, on utilise un raisonnement par récurrence.

On a $u_0 = \frac{1}{3} \in I$, on suppose que $u_n \in I$ et on s'intéresse à u_{n+1} .

Comme $f(I) \subset I$, alors $f(u_n) \in I$, c'est à dire $u_{n+1} = f(u_n) \in I$.

On sait que $\frac{1}{3} < \alpha_3 < \frac{1}{\sqrt{3}}$ donc $\alpha_3 \in I$ et aussi pour entier naturel n , $u_n \in I$.

f étant dérivable sur I et pour tout réel x de I , $|f'(x)| \leq \frac{2}{3}$, d'après le corollaire du théorème des

accroissements finis $|f(u_n) - f(\alpha_3)| \leq \frac{2}{3} |u_n - \alpha_3|$ ou encore $|u_{n+1} - \alpha_3| \leq \frac{2}{3} |u_n - \alpha_3|$.

c) Raisonnons par récurrence : Pour $n=0$ $|u_0 - \alpha_3| \leq 1 - \frac{1}{3} = \frac{2}{3}$ donc vraie

Soit $n \in \mathbb{N}$, supposons $|u_n - \alpha_3| \leq \left(\frac{2}{3}\right)^{n+1}$ on a donc $\frac{2}{3}|u_n - \alpha_3| \leq \left(\frac{2}{3}\right)^{n+2}$ et comme $|u_{n+1} - \alpha_3| \leq \frac{2}{3}|u_n - \alpha_3|$

alors $|u_{n+1} - \alpha_3| \leq \left(\frac{2}{3}\right)^{n+2}$ ce qu'il faut prouver.

Conclusion : pour tout entier naturel n , $|u_n - \alpha_3| \leq \left(\frac{2}{3}\right)^{n+1}$.

d) On a $\lim_{n \rightarrow +\infty} \left(\frac{2}{3}\right)^{n+1} = 0$ car $-1 < \frac{2}{3} < 1$ et donc par le théorème de comparaison la suite (u_n) est convergente et sa limite est α_3 .

Partie III

1) a) Soit $G(y) = \int_0^y f(t) dt$, f est continue sur $[0, +\infty[$ donc G est dérivable sur $[0, +\infty[$ et on $F(x) = G(8x) - G(x)$ on a donc F est dérivable sur $[0, +\infty[$.

b) On a : pour tout réel $x \geq 0$ $F'(x) = 8 \times G'(8x) - G'(x) = 8 \times f(8x) - f(x)$
 $= 8\sqrt[3]{8x} e^{-8x} - \sqrt[3]{x} e^{-x} = (8\sqrt[3]{8} e^{-7x} - 1)\sqrt[3]{x} e^{-x} = (16e^{-7x} - 1)\sqrt[3]{x} e^{-x}$.

Le Signe de $F'(x)$ sur $[0, +\infty[$ est celui de $16e^{-7x} - 1$

$$16e^{-7x} - 1 \geq 0 \Leftrightarrow e^{-7x} \geq \frac{1}{16} \Leftrightarrow -7x \geq -\ln(16) \Leftrightarrow x \leq \frac{4}{7} \ln(2)$$

Donc, F est strictement croissante sur $\left[0, \frac{4}{7} \ln(2)\right]$ et strictement décroissante sur $\left[\frac{4}{7} \ln(2), +\infty\right[$.

2. a) Pour tout x appartenant à $[0, +\infty[$, on a $F(x) \geq 0$ du fait que f soit positive ou nulle sur $[0, +\infty[$.

$$F(x) = \int_x^{8x} \sqrt[3]{t} e^{-t} dt$$

t étant compris entre x et $8x$ pour $x \geq 0$ alors par croissance de la fonction racine cubique sur $[0, +\infty[$, on a :

$\sqrt[3]{t} \leq \sqrt[3]{8x}$ et comme $e^{-x} > 0$ alors $\sqrt[3]{t} e^{-x} \leq \sqrt[3]{8x} e^{-x}$ et la continuité des fonctions permet d'écrire :

$$F(x) \leq \sqrt[3]{8x} \int_x^{8x} e^{-t} dt = 2\sqrt[3]{x} \left[-e^{-t}\right]_x^{8x} = 2e^{-x} \sqrt[3]{x} (1 - e^{-7x}) = 2f(x)(1 - e^{-7x})$$

Finalement, pour tout réel x appartenant à $[0, +\infty[$, on a : $0 \leq F(x) \leq 2f(x)(1 - e^{-7x})$

b) $\lim_{x \rightarrow +\infty} 1 - e^{-7x} = 1$ donc $\lim_{x \rightarrow +\infty} 2f(x)(1 - e^{-7x}) = 0$ et donc par le théorème de comparaison $\lim_{x \rightarrow +\infty} F(x) = 0$.

x	0	$\frac{4}{7} \ln(2)$	$+\infty$
$f'(x)$		+	-
$f(x)$	0	$F\left(\frac{4}{7} \ln(2)\right)$	0

Exercice 3

1. a) Pour $x > 0$, $f(x) = \left(1 + \frac{1}{x}\right) e^{-\frac{1}{x}} = e^{-\frac{1}{x}} - \left(-\frac{1}{x}\right) e^{-\frac{1}{x}}$.



$\lim_{x \rightarrow 0^+} -\frac{1}{x} = -\infty$ et $\lim_{x \rightarrow -\infty} xe^x = 0$ donc par composée $\lim_{x \rightarrow 0^+} \left(-\frac{1}{x}\right) e^{\frac{1}{x}} = 0$ et on a $\lim_{x \rightarrow 0^+} e^{\frac{1}{x}} = 0$ donc par somme $\lim_{x \rightarrow 0^+} f(x) = 0 = f(0)$ et f est continue à droite en 0.

b) Pour $x > 0$, $\frac{f(x)}{x} = \left(\frac{x+1}{x^2}\right) e^{\frac{1}{x}} = (x+1) \left(-\frac{1}{x}\right)^2 e^{\frac{1}{x}}$

$\lim_{x \rightarrow 0^+} -\frac{1}{x} = -\infty$ et $\lim_{x \rightarrow -\infty} x^2 e^x = 0$ donc par composée $\lim_{x \rightarrow 0^+} \left(-\frac{1}{x}\right)^2 e^{\frac{1}{x}} = 0$ et par produit $\lim_{x \rightarrow 0^+} \frac{f(x)}{x} = 0$ donc

f est dérivable à droite en 0 et $f'_d(0) = 0$. La demi-tangente à (C) au point 0 a pour équation : $\begin{cases} y = 0 \\ x \geq 0 \end{cases}$.

2. a) La fonction $x \mapsto \frac{x+1}{x}$ est rationnel avec un dénominateur ne s'annulant pas sur $]0, +\infty[$ donc dérivable sur cet intervalle.

La fonction $x \mapsto -\frac{1}{x}$ est rationnel avec un dénominateur ne s'annulant pas sur $]0, +\infty[$ donc dérivable sur cet

intervalle et comme la fonction exponentielle est dérivable sur \mathbb{R} alors la fonction composée $x \mapsto e^{-\frac{1}{x}}$ est produit de fonctions dérivables sur $]0, +\infty[$ donc dérivable sur cet intervalle.

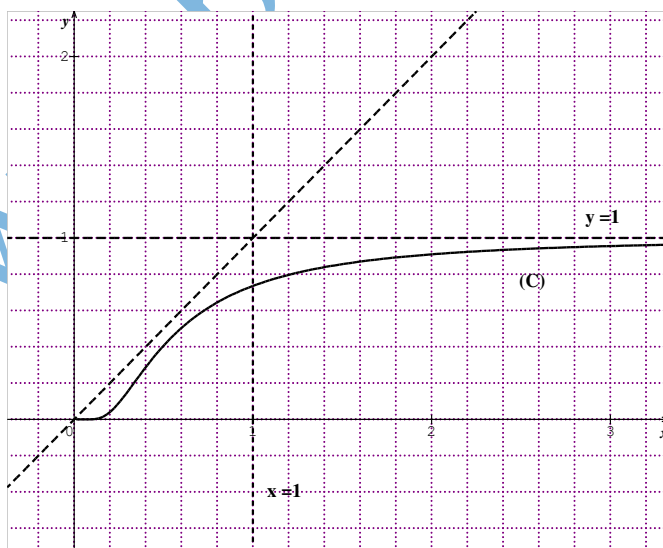
Pour $x > 0$, $f'(x) = \left(-\frac{1}{x^2}\right) e^{\frac{1}{x}} + \left(1 + \frac{1}{x}\right) \left(\frac{1}{x^2}\right) e^{\frac{1}{x}} = \left(-1 + 1 + \frac{1}{x}\right) \left(\frac{1}{x^2}\right) e^{\frac{1}{x}} = \left(\frac{1}{x^3}\right) e^{\frac{1}{x}}$.

b) On a pour $x > 0$, $f'(x) > 0$ donc f est strictement croissante sur $[0, +\infty[$. $\lim_{x \rightarrow +\infty} \left(1 + \frac{1}{x}\right) e^{\frac{1}{x}} = 1$ donc

$f \llbracket [0, +\infty[\rrbracket = [0, 1[$. Dresser le tableau de variation de f .

c) f est continue et elle est strictement croissante sur $[0, +\infty[$ donc elle réalise une bijection de cet intervalle sur son image $[0, 1[$. Donc f admet une fonction réciproque g définie sur $[0, 1[$.

d) Je donne (C) construire (C').



3. a) $G(x) = \int_x^1 t f'(t) dt = \int_x^1 \frac{1}{t^2} e^{\frac{1}{t}} dt = \left[e^{\frac{1}{t}} \right]_x^1 = \frac{1}{e} - e^{-\frac{1}{x}}$.

b) Intégrons par partie $F(x) = \int_x^1 1 \times f(t) dt$.

On posons $u'(t) = 1 \Rightarrow u(t) = t$. Par le théorème d'intégration par parties :

$$F(x) = [t f(t)]_x^1 - \int_x^1 t f'(t) dt = f(1) - x f(x) - G(x) = \frac{2}{e} - x f(x) - G(x). \text{ On a donc}$$

$$F(x) = [t f(t)]_x^1 - \int_x^1 t f'(t) dt = f(1) - x f(x) - G(x) = \frac{2}{e} - x f(x) - G(x). \text{ On vient d'exprimer } F(x) \text{ en fonction de } G(x).$$

Déduction : On a $F(x) = \frac{2}{e} - x f(x) - G(x) \Leftrightarrow F(x) = \frac{2}{e} - (x+1)e^{-\frac{1}{x}} - \frac{1}{e} + e^{-\frac{1}{x}} = \frac{1}{e} - x e^{-\frac{1}{x}}$ c'est le résultat souhaité.

4. a) Sur $]0, 1]$ la fonction f est strictement positive donc $A(\alpha) = \int_\alpha^1 f(t) dt = F(\alpha) = \frac{1}{e} - \alpha e^{-\frac{1}{\alpha}}$.

$$\alpha^2 \left(-\frac{1}{\alpha}\right) e^{-\frac{1}{\alpha}} \text{ et par composée } \lim_{\alpha \rightarrow 0^+} \left(-\frac{1}{\alpha}\right) e^{-\frac{1}{\alpha}} = \lim_{x \rightarrow -\infty} x e^x = 0 \text{ et donc } \lim_{\alpha \rightarrow 0^+} A(\alpha) = \frac{1}{e}.$$

b) L'aire A' demandée est l'aire du carré unité du quel on retranche $2 \times \frac{1}{e}$. Ce qui donne $A' = 1 - \frac{2}{e}$.

Exercice 4

1. $\left(1 + \frac{2}{n}\right)^n = e^{n \ln\left(1 + \frac{2}{n}\right)}$. Soit $f(x) = e^{x \ln\left(1 + \frac{2}{x}\right)}$ or $\lim_{n \rightarrow +\infty} x \ln\left(1 + \frac{2}{x}\right) = \lim_{n \rightarrow +\infty} \frac{\ln\left(1 + \frac{2}{x}\right)}{\frac{2}{x}} \times 2 = 2$ car $\lim_{n \rightarrow +\infty} \frac{2}{x} = 0$ et $\lim_{n \rightarrow 0} \frac{\ln(1+x)}{x} = 1$ et donc $\lim_{n \rightarrow +\infty} e^{x \ln\left(1 + \frac{2}{x}\right)} = e^2$. f a pour limite e^2 il en est de même pour la suite u .

proposition fausse.

2. $u(x) = 8^x = e^{x \ln 8}$ u est dérivable sur \mathbb{R} et $u'(x) = (\ln 8) e^{x \ln 8} = (\ln 8) \times 8^x$. **proposition fausse.**

3. Le couple $(4; 9)$ correspondant à $k = 0$ n'est pas solution. **proposition fausse.**

4. B l'image de A par la rotation de centre O signifie $z_B = i \times z_A = 1 + 2i$. Le milieu I de $[AB]$ a pour affixe

$$z_I = \frac{z_A + z_B}{2} = \frac{1 + 2i + 2 - i}{2} = \frac{3 + i}{2}.$$

La similitude directe de centre A qui transforme I en O a pour rapport

$$k = \frac{OA}{AI} = \frac{|z_A|}{|z_I - z_A|} = \frac{\sqrt{5}}{\left|-\frac{1}{2} + \frac{3}{2}i\right|} = \frac{\sqrt{5}}{\sqrt{\frac{5}{2}}} = \sqrt{2} \text{ et pour angle } \theta \equiv (\overline{AI}, \overline{AO})[2\pi]. \text{ Or}$$

$$(\overline{AI}, \overline{AO}) \equiv \arg\left(\frac{-z_A}{z_I - z_A}\right)[2\pi] \Leftrightarrow (\overline{AI}, \overline{AO}) \equiv \arg\left(\frac{-2+i}{-\frac{1}{2} + \frac{3}{2}i}\right)[2\pi] \Leftrightarrow (\overline{AI}, \overline{AO}) \equiv \arg\left(\frac{-2+i}{-1+3i}\right)[2\pi]$$

Le complexe $\frac{-2+i}{-1+3i} = \frac{5+5i}{10} = \frac{1}{2} + \frac{1}{2}i$ et donc $\theta \equiv \frac{\pi}{4}[2\pi]$.



L'écriture complexe de S est de la forme $z' = \sqrt{2}e^{i\frac{\pi}{4}}z + b = (1+i)z + b$ avec $b \in \mathbb{C}$ et comme $S(I) = O$ alors

$$0 = (1+i)\left(\frac{3}{2} + \frac{1}{2}i\right) + b \Leftrightarrow b + 1 + 2i = 0 \Leftrightarrow b = -1 - 2i. \text{ Proposition correcte.}$$

5. $\int_1^{ab} \frac{1}{t} dt = \ln(ab) = \ln(a) + \ln(b) = \int_1^a \frac{1}{t} dt + \int_1^b \frac{1}{t} dt$. Proposition correcte.

Exercice 5

1. a) Pour $x > 1$; $\frac{f_n(x)}{x-1} = \frac{\sqrt{\ln x}}{x^n(x-1)} = \frac{\ln x}{x-1} \times \frac{1}{x^n \sqrt{\ln x}}$. Comme $\lim_{x \rightarrow 1^+} \frac{\ln x}{x-1} = 1$ et $\lim_{x \rightarrow 1^+} \frac{1}{x^n \sqrt{\ln x}} = +\infty$, alors

$$\lim_{x \rightarrow 1^+} \frac{f_n(x)}{x-1} = +\infty$$

f_n n'est pas dérivable à droite en 1. la demi-tangente à C_n au point d'abscisse 1 a pour équation $\begin{cases} x=1 \\ y \geq 0 \end{cases}$

b) f_n est pas dérivable sur $]1, +\infty[$ et $\forall x > 1$, $f'_n(x) = \frac{x^{n-1}(1-2n \ln x)}{2x^{2n} \sqrt{\ln x}}$.

Le signe de $f'_n(x)$ est celui de $1-2n \ln x$. Or $1-2n \ln x \geq 0 \Leftrightarrow \ln x \leq \frac{1}{2n} \Leftrightarrow x \leq e^{\frac{1}{2n}}$.

$$\lim_{x \rightarrow +\infty} f_n(x) = \lim_{x \rightarrow +\infty} \frac{\ln x}{x^n} \frac{1}{\sqrt{\ln x}} = 0 \text{ et}$$

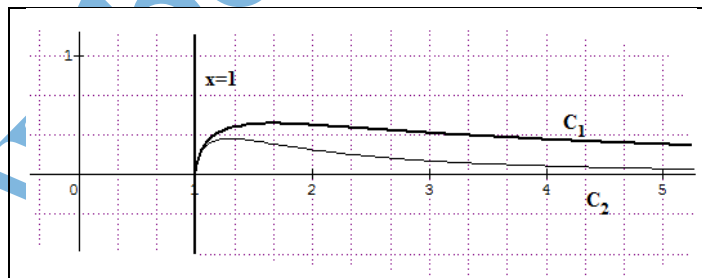
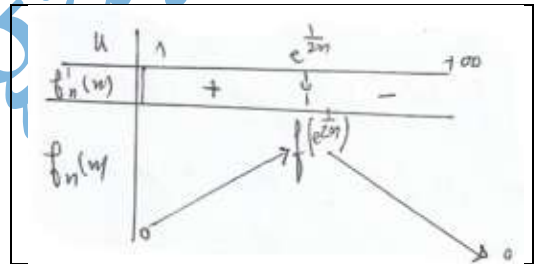
$$f\left(e^{\frac{1}{2n}}\right) = \frac{\sqrt{2n}}{e^{\frac{1}{2}}} = \frac{1}{\sqrt{e} \sqrt{2n}} = \frac{1}{\sqrt{2n}}$$

Ce qui donne le tableau de variation ci-contre:

c) $f_{n+1}(x) - f_n(x) = \frac{\sqrt{\ln x}}{x^n} \left(\frac{1-x}{x}\right) \leq 0$; ($x \leq 1$). Donc C_n est

au dessus de C_{n+1} .

d)



2. $a \in]1, +\infty[$

$\forall x \geq 1$; $f_1(x) \geq 0$ donc $I(a) = \int_1^a f_1(x) dx = \int_1^a \frac{\sqrt{\ln x}}{x} dx = \int_1^a \frac{1}{x} \sqrt{\ln x} dx$. Or l'expression $\frac{1}{x} \sqrt{\ln x}$ est de la forme

$$u' \sqrt{u} \text{ donc } I(a) = \left[\frac{2}{3} \ln x \sqrt{\ln x} \right]_1^a = \frac{2}{3} \ln a \sqrt{\ln a}$$

3. On a $k \in \{0, 1, 2, \dots, n-1\}$ donc $0 \leq k \leq n-1 \Leftrightarrow 1 \leq k+1 \leq n \Leftrightarrow \frac{1}{2n} + 1 \leq 1 + \frac{k+1}{2n} \leq \frac{3}{2}$. Or $\sqrt{e} > \frac{3}{2}$ et f_1 est

strictement croissante sur $[1, \sqrt{e}]$ donc si $0 \leq 1 + \frac{k}{2n} \leq x \leq 1 + \frac{k+1}{2n} \leq \sqrt{e}$ alors

$$f\left(1 + \frac{k}{2n}\right) \leq f(x) \leq f\left(1 + \frac{k+1}{2n}\right)$$

f_1 étant continue sur $[1, +\infty[$ donc d'après le théorème de la moyenne

$$\left(1 + \frac{k+1}{2n} - 1 - \frac{k}{2n}\right) f_1\left(1 + \frac{k}{2n}\right) \leq \int_{1+\frac{k}{2n}}^{1+\frac{k+1}{2n}} f(t) dt \leq \left(1 + \frac{k+1}{2n} - 1 - \frac{k}{2n}\right) f_1\left(1 + \frac{k+1}{2n}\right)$$

$$\Leftrightarrow \frac{1}{2n} f_1\left(1 + \frac{k}{2n}\right) \leq \int_{1+\frac{k}{2n}}^{1+\frac{k+1}{2n}} f(t) dt \leq \frac{1}{2n} f_1\left(1 + \frac{k+1}{2n}\right)$$

$$\text{Or } t_n = \sum_{k=0}^n \frac{\sqrt{\ln\left(1 + \frac{k}{2n}\right)}}{k+2n} = \frac{1}{2n} \sum_{k=0}^n f_1\left(1 + \frac{k}{2n}\right).$$

$$\text{On a } \forall n \in \mathbb{N}^* \text{ et } \forall k; 0 \leq k \leq n-1; \quad \frac{1}{2n} f_1\left(1 + \frac{k}{2n}\right) \leq \int_{1+\frac{k}{2n}}^{1+\frac{k+1}{2n}} f(t) dt \leq \frac{1}{2n} f_1\left(1 + \frac{k+1}{2n}\right)$$

$$\text{Par sommation entre } 0 \text{ et } n-1, \text{ on aura } \frac{1}{2n} \sum_{k=0}^{n-1} f_1\left(1 + \frac{k}{2n}\right) \leq \sum_{k=0}^{n-1} \int_{1+\frac{k}{2n}}^{1+\frac{k+1}{2n}} f(t) dt \leq \frac{1}{2n} \sum_{k=0}^{n-1} f_1\left(1 + \frac{k+1}{2n}\right) \text{ et}$$

d'après la relation de Chasles pour le calcul intégral on obtient finalement $t_n - \frac{1}{2n} f_1\left(\frac{3}{2}\right) \leq I\left(\frac{3}{2}\right) \leq t_n$.

La double inégalité $t_n - \frac{1}{2n} f_1\left(\frac{3}{2}\right) \leq I\left(\frac{3}{2}\right) \leq t_n$ s'écrit aussi $I\left(\frac{3}{2}\right) \leq t_n \leq \frac{1}{2n} f_1\left(\frac{3}{2}\right) + I\left(\frac{3}{2}\right)$.

$$\lim_{n \rightarrow +\infty} \frac{1}{2n} f_1\left(\frac{3}{2}\right) = 0. \text{ Donc par comparaison } \lim_{n \rightarrow +\infty} t_n = I\left(\frac{3}{2}\right) = \frac{2}{3} \ln\left(\frac{3}{2}\right) \sqrt{\ln\left(\frac{3}{2}\right)}.$$

Exercice 6

1. On a : $1 \leq k \leq 2n \Leftrightarrow 1+n \leq n+k \leq 3n \Leftrightarrow \frac{1}{3n} \leq \frac{1}{n+k} \leq \frac{1}{n+1}$ et par sommation k allant de 1 à $2n$, on obtient

$$\frac{2n}{3n} \leq \sum_{k=1}^{2n} \frac{1}{n+k} \leq \frac{2n}{n+1} \cdot \frac{2}{3} \leq \sum_{k=1}^{2n} \frac{1}{n+k} \leq 2 \frac{n}{n+1} \leq 2. \text{ Donc la suite } u \text{ est majorée par } 2.$$

$$u_{n+1} = \sum_{k=1}^{2n+2} \frac{1}{n+1+k} = \frac{1}{n+2} + \dots + \frac{1}{3n} + \frac{1}{3n+1} + \frac{1}{3n+2} + \frac{1}{3n+3} \quad u_n = \sum_{k=1}^{2n} \frac{1}{n+k} = \frac{1}{n+1} + \frac{1}{n+2} + \dots + \frac{1}{3n}$$

$$u_{n+1} - u_n = -\frac{1}{n+1} + \frac{1}{3n+1} + \frac{1}{3n+2} + \frac{1}{3n+3} = -\frac{3}{3n+3} + \frac{1}{3n+1} + \frac{1}{3n+2} + \frac{1}{3n+3}$$

$= -\frac{2}{3n+3} + \frac{1}{3n+1} + \frac{1}{3n+2} \geq 0$ en effet $3n+1 < 3n+3$ et $3n+2 < 3n+3$ donc la suite u est croissante et comme elle est majorée par 2 donc elle converge.

2. On a pour $x > 0$ et $x \leq t \leq x+1$, $\frac{1}{x+1} \leq \frac{1}{t} \leq \frac{1}{x}$.

La fonction inverse étant continue sur $]0, +\infty[$, la positivité de l'intégrale permet d'écrire

$$\int_x^{x+1} \frac{1}{x+1} dt \leq \int_x^{x+1} \frac{1}{t} dt \leq \int_x^{x+1} \frac{1}{x} dt \text{ ou encore : } x > 0, \quad \frac{1}{x+1} \leq \ln\left(\frac{x+1}{x}\right) \leq \frac{1}{x}$$

3. La double inégalité précédente écrite pour différentes valeurs de x donne :



$$x = n; \frac{1}{n+1} \leq \ln\left(\frac{n+1}{n}\right) \leq \frac{1}{n}$$

$$x = n+1; \frac{1}{n+2} \leq \ln\left(\frac{n+2}{n+1}\right) \leq \frac{1}{n+1}$$

⋮

$$x = 3n-1; \frac{1}{3n} \leq \ln\left(\frac{3n}{3n-1}\right) \leq \frac{1}{3n-1}$$

Par sommation, on aura : $u_n \leq \ln 3 \leq u_n - \frac{1}{3n} + \frac{1}{n} = u_n + \frac{2}{3n}$

4. La double inégalité précédente, s'écrit aussi $0 \leq \ln 3 - u_n \leq \frac{2}{3n}$.

Le théorème de comparaison permet d'affirmer que $\lim_{n \rightarrow +\infty} u_n = \ln 3$.

Exercice 7

1. $f(x) \geq 0$ sur $[0, 1]$, négative ailleurs.

2. a) $F(1) = \int_0^1 f(t) dt = 0$.

b) $F(e) = \int_0^1 f(t) dt$. C'est l'aire du domaine limité par (C) l'axe des abscisses et les droites $x = 0$ et $x = 1$. Or

la restriction de la courbe (C) à l'intervalle $[0, 1]$ est le demi-cercle de diamètre $[OI]$. Donc $F(e) = \frac{\pi r^2}{2} = \frac{\pi}{8}$.

3. a) Soit pour x réel $G(x) = \int_0^x f(t) dt$.

On sait que f est continue sur \mathbb{R} , donc G est dérivable sur \mathbb{R} et $\forall x \in \mathbb{R} G'(x) = f(x)$

De plus $F(x) = G(\ln x)$.

La fonction \ln étant dérivable sur $]0, +\infty[$ et a valeurs dans \mathbb{R} alors F est dérivable sur $]0, +\infty[$ et $\forall x \in]0, +\infty[$,

$$F'(x) = G'(\ln x) \times \frac{1}{x} = \frac{f(\ln x)}{x}$$

b) Par une lecture graphique, on remarque la courbe (C) est comprise sur $[1, +\infty[$ entre la demi droite T et la courbe de g . Donc pour tout $t \geq 1$ on a : $t-1 \leq f(t) \leq t^2$.

Pour $x \geq e$ on a, $\ln x \geq 1$ et donc vu la continuité des trois fonctions précédentes, on peut utiliser la positivité

$$\text{de l'intégrale et écrire } \int_1^{\ln x} (t-1) dt \leq \int_1^{\ln x} f(t) dt \leq \int_1^{\ln x} t^2 dt$$

Ou encore :

$$\frac{1}{2} + \frac{1}{2}(\ln x)^2 - \ln x \leq \int_1^{\ln x} f(t) dt \leq \frac{1}{3}(\ln x)^3 - \frac{1}{3} \text{ qu'on peut toujours écrire}$$

$$\frac{1}{2}(\ln x)^2 - \ln x \leq \int_1^{\ln x} f(t) dt \leq \frac{1}{3}(\ln x)^3$$

c) Remarquons que $F(x) = \int_0^1 f(t) dt + \int_1^{\ln x} f(t) dt \Rightarrow F(x) = F(e) + \int_1^{\ln x} f(t) dt$.

$$\text{Ainsi } \frac{1}{2}(\ln x)^2 - \ln x - \frac{\pi}{8} \leq F(x) \leq \frac{1}{3}(\ln x)^3 - \frac{\pi}{8}$$

Comme $\lim_{x \rightarrow +\infty} \frac{1}{2}(\ln x)^2 - \ln x = \lim_{x \rightarrow +\infty} \ln x \left(\frac{1}{2} \ln x - 1 \right) = +\infty$

Alors par comparaison $\lim_{x \rightarrow +\infty} F(x) = +\infty$.



Vérifier de même que $\lim_{x \rightarrow +\infty} \frac{F(x)}{x} = 0$.

Tenir compte du signe de \ln sur $]0, +\infty[$ et achever votre exercice.

Exercice 8

1. On a $97 \wedge 299 = 1$ donc l'équation admet des solutions dans $\mathbb{Z} \times \mathbb{Z}$.

aussi $97 \times 7 - 299 \times 2 = 81$ donc le couple $(7, 2)$ est une solution particulière de cette équation.

Résolution de l'équation (E) :

Si (x, y) est un couple solution de (E) alors $97 \times x - 299 \times y = 97 \times 7 - 299 \times 2$

$$\Leftrightarrow 97(x-7) = 299(y-2) \quad (1)$$

On a 299 divise $97(x-7)$ et $97 \wedge 299 = 1$ d'après le lemme de Gauss 299 divise $x-7$ et donc il existe $k \in \mathbb{Z}$

tel que $x-7 = 299k$. On remplace $x-7$ dans (1) on obtient $97 \times 299k = 299(y-2)$ ce qui donne

$$y-2 = 97k, \quad k \in \mathbb{Z}.$$

Après vérification on peut conclure que l'ensemble des solutions de (E) sont les couples (x, y) avec

$$x = 7 + 299k \text{ et } y = 2 + 97k, \quad k \in \mathbb{Z}.$$

b) Soit (x, y) est un couple solution de (E) et $d = x \wedge y$ alors d divise $97 \times x - 299 \times y = 81$ donc d est un diviseur de $81 = 3^4$.

Or les diviseurs de 81 sont 1, 3, 9, 27, 81 donc d prend l'une ou l'autre de ces 5 valeurs.

c) passant par l'algorithme d'Euclide et rappelons que dans \mathbb{Z} , si $a = bq + r$ alors $a \wedge b = b \wedge r$.

$$299k + 7 = 3(97k + 2) + 8k + 1$$

$$97k + 2 = 12(8k + 1) + k - 10$$

$$8k + 1 = 8 \times (k - 10) + 81$$

On voit donc que $(299k + 7) \wedge (97k + 2) = (k - 10) \wedge 81$.

Déduction :

on a vu que $x \wedge y = (k - 10) \wedge 81$. Ainsi $x \wedge y = 81 \Leftrightarrow 81$ est un diviseur de $k - 10 \Leftrightarrow \exists p \in \mathbb{Z}$ tel que

$$k = 10 + 81p \text{ dans ce cas } x = 299(10 + 81p) + 7 = 2997 + 24219p \text{ et}$$

$$y = 97(10 + 81p) + 2 = 972 + 7857p$$

Donc les couples (x, y) solution de (E) avec $x \wedge y = 81$ sont :

$$x = 2997 + 24219p \text{ et } y = 972 + 7857p, \quad p \in \mathbb{Z}.$$

2. a) En base décimal y s'écrit $y = 10^3c + 4 \times 10^2 + 10a + 4 = 10^3c + 10a + 404$ et

$$x = 10^3 \times a + 4 \times 10^2 + 10 \times c + 4 = 10^3 \times a + 10 \times c + 404$$

Or $y = xq + 2, \quad q \in \mathbb{N} \Leftrightarrow y = q(10^3 \times a + 10 \times c + 404) + 2$



On aura donc $q(10^3 \times a + 10 \times c + 404) + 2 = 10^3 c + 10a + 404$

et par différence $10^3(c - aq) + 10(a - cq) + 402 - 404q = 0$ et donc modulo 5 : $402 - 404q \equiv 0 \pmod{5}$

$\Leftrightarrow 2 \times (201 - 202q) \equiv 0 \pmod{5}$ et comme $2 \wedge 5 = 1$ d'après le lemme de Gauss $201 - 202q \equiv 0 \pmod{5}$

ou encore $202q - 201 \equiv 0 \pmod{5}$ c'est le résultat.

b) On a : $202q - 201 \equiv 0 \pmod{5}$ (1)

Or $202 \equiv 2 \pmod{5}$ et $201 \equiv 1 \pmod{5}$. L'égalité (1) devient : $2q - 1 \equiv 0 \pmod{5} \Rightarrow 2q + 4 \equiv 0 \pmod{5}$

$\Leftrightarrow 2(q + 2) \equiv 0 \pmod{5}$ et $2 \wedge 5 = 1$ d'après le lemme de Gauss $q + 2 \equiv 0 \pmod{5} \Leftrightarrow q \equiv -2 \pmod{5}$ et

$q \in \mathbb{N}$ donc $q \in \{3, 8, 11, \dots\}$.

Or q est un chiffre si non $y = xq + 2 > 10^4$ donc $q \in \{3, 8\}$.

$q \neq 8$ car $x = 10^3 \times a + 10 \times c + 404 > 10^3 + 404 \Leftrightarrow 8x > 8 \times 10^3 + 8 \times 404 > 10^4$. Ainsi $q = 3$.

c) On a $Y = 3X + 2 = 3 \times (10^3 \times a + 10 \times c + 404) + 2$ et $Y = 10^3 c + 10a + 404$ donc

$3 \times (10^3 \times a + 10 \times c + 404) + 2 = 10^3 c + 10a + 404 \Leftrightarrow 10^3(c - 3a) + 10(a - 3c) = 810$

$\Leftrightarrow 100(c - 3a) + (a - 3c) = 81 \Leftrightarrow 97c - 299a = 81$ et donc le couple (c, a) est solution de (E).

On en déduit que $c = 7$ et $a = 2$.

Finalement $X = 2474$ et $Y = 7424$.

Exercice 9

1. a) Les composantes du vecteur \overrightarrow{BH} sont $(-1, 1, 1)$ donc une représentation paramétrique de la droite (BH) est

$$\text{donnée par : } \begin{cases} x = 1 - \alpha \\ y = \alpha \\ z = \alpha \end{cases} \quad \alpha \in \mathbb{R}$$

b) Les composantes du vecteur $\overrightarrow{AC} \wedge \overrightarrow{AF}$ sont $(1, -1, -1)$ et A est point de ce plan donc (ACF) :
 $x - y - z = 0$.

c) W est un point de la droite (BH) et tel que le volume de tétraèdre ACFW est égale à $\frac{11}{6}$ donc

$\frac{1}{6} |(\overrightarrow{AC} \wedge \overrightarrow{AF}) \cdot \overrightarrow{AW}| = \frac{11}{6} \Leftrightarrow |(\overrightarrow{AC} \wedge \overrightarrow{AF}) \cdot \overrightarrow{AW}| = 11$. Or $W(1 - \alpha, \alpha, \alpha)$ donc cela revient à résoudre

$|1 - 3\alpha| = 11 \Leftrightarrow \alpha = -\frac{10}{3}$ ou $\alpha = 4$ et par conséquent deux points ...

2. Soit K le milieu de [FG] et h l'homothétie de centre K et de rapport $\frac{1}{3}$.

a) P est le centre de gravité de HGF et Q est le centre de gravité de FBG, donc $\overrightarrow{KP} = \frac{1}{3} \overrightarrow{KH}$ et $\overrightarrow{KQ} = \frac{1}{3} \overrightarrow{KB}$

ce qui donne $h(H) = P$ et $h(B) = Q$.



$$b) h(M) = M' \Leftrightarrow \begin{cases} x' = \frac{1}{3}x + \frac{2}{3} \\ y' = \frac{1}{3}y + \frac{1}{3} \\ z' = \frac{1}{3}z + \frac{2}{3} \end{cases}$$

3. a) Soit le plan $(R) : -x + y + z - \frac{1}{3} = 0$

(R) et (ACF) ont même vecteur normal donc $(R) // (ACF)$

Le point a est point de (ACF) et $h(A) = A' \left(\frac{2}{3}, \frac{1}{3}, \frac{2}{3} \right) \in (R)$ donc l'image du plan (ACF) par h est le plan (R) .

\overline{BH} est normal au plan (ACF) donc (BH) est perpendiculaire à (ACF) .

Soit N le point d'intersection de (BH) avec (ACF) les coordonnées de N satisfont :

$$\begin{cases} x = 1 - \alpha \\ y = \alpha \\ z = \alpha \\ x - y - z = 0 \end{cases} \Rightarrow \alpha = \frac{1}{3} \Rightarrow N \left(\frac{2}{3}, \frac{1}{3}, \frac{1}{3} \right)$$

On a (BH) est perpendiculaire à (ACF) en un point N et h conserve l'orthogonalité donc

L'image par h de (BH) est perpendiculaire à l'image par h de (ACF) en $N' = h(N)$ soit encore $(PQ) \perp (R)$

au point $N' \left(\frac{8}{9}, \frac{4}{9}, \frac{7}{9} \right)$

c) S est la sphère tangente aux plans (R) et (ACF) et dont le centre appartient à la droite (NN')

Soit $I(a, b, c)$ le centre de la sphère.

$$\text{On a } d(I, (ACF)) = d(I, (R)) \Rightarrow \frac{|a-b-c|}{\sqrt{3}} = \frac{|a-b-c+\frac{1}{3}|}{\sqrt{3}}$$

$$a-b-c = a-b-c + \frac{1}{3} \text{ équation impossible}$$

$$\text{ou bien } a-b-c = -a+b+c - \frac{1}{3} \Rightarrow 2a-2b-2c + \frac{1}{3} = 0$$

$$\text{De plus le point } I \text{ est un point de la droite } (NN') \text{ donc } \begin{cases} a = \frac{2}{3} + \frac{2}{9}t \\ b = \frac{1}{3} + \frac{1}{9}t \\ c = \frac{1}{3} + \frac{4}{9}t \end{cases}$$

$$\Rightarrow \frac{4}{3} + \frac{4}{9}t - \frac{2}{3} - \frac{2}{9}t - \frac{2}{3} - \frac{8}{9}t = 0 \Rightarrow t = \frac{1}{2} \Rightarrow I \left(\frac{7}{9}, \frac{7}{18}, \frac{5}{9} \right)$$

Remarquer que I est le milieu de $[NN']$



Soit R le rayon de la sphère, donc $R = d(I, (ACF)) = \frac{\sqrt{3}}{18}$ et par suite une équation cartésienne de S est :

$$\left(x - \frac{7}{9}\right)^2 + \left(y - \frac{7}{18}\right)^2 + \left(z - \frac{5}{9}\right)^2 = \frac{1}{108}.$$

www.ben-regaya.net

